


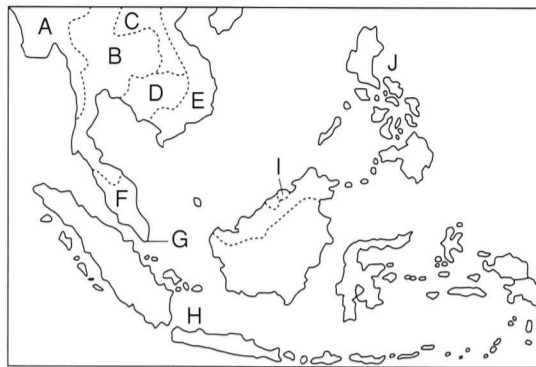
① 東南アジア諸国のようすについて、右の地図を見て、つぎの問いに答えよ。

(1) つぎの各文にあてはまる国の名を書き、さらにその国の位置を地図中のA～Jから選び、記号で答えよ。

- ① 国土はせまいが、工業が発展し、中継貿易もさかんで、NIESの一員となっている。
- ② アメリカとの戦争に勝って国土を統一し、社会主義の道を歩む。近年は工業も発展。
- ③ オランダから独立した、多くの島々からなる国。イスラム教徒が多く、石油などの鉱産資源にめぐまれている。
- ④ もとビルマとよんでいた仏教国。独自の社会主義路線をとっている。

(2) Fの国は、かつて特定の農産物や鉱産物の輸出に大きく頼る(①)経済とよばれる状態にあったが、現在は日本や韓国を手本とする(②)政策のもと、工業の発展がめざましい。文中の①・②の( )にあてはまる語句を書け。

- (3) 右のグラフは、ある農産物の輸出量と生産量を表している。この農産物は何か。
- (4) 地図中のA～Jの各国は、東南アジア諸国連合を結成し、経済の結びつきを強めている。この組織の略称をアルファベット5文字で書け。



① 【完答各5 — 40点】

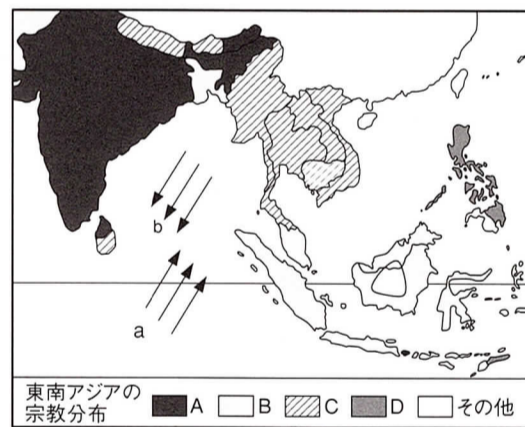
(1)	①		
	②		
	③		
	④		
(2)	①		
	②		
(3)			
(4)			

② 東南アジア・南アジアについて、右の地図を見て、つぎの問いに答えよ。

(1) 地図中のA～Dは、多くの人々に信じられている宗教の分布を表している。あてはまる宗教を、つぎのア～エから選び、記号で答えよ。

- ア キリスト教      イ イスラム教
- ウ 仏教              エ ヒンドゥー教

(2) 地図中の矢印a, bはこの地域に吹く季節風を表している。この季節風の呼び名を書け。また、夏に吹くとき、その方向はa・bのどちらか。記号で答えよ。

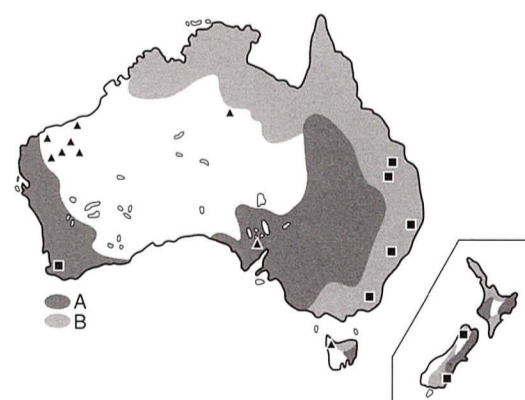


② 【完答各4 — 20点】

(1)	A	
	B	
	C	
	D	
(2)		

③ オセアニアのようすについて、右の地図を見て、つぎの問いに答えよ。

- (1) 地図中の▲, ■はある鉱産資源の産出する場所を表している。オーストラリアから日本への主要な輸出品でもあるこの鉱産資源は何か。
- (2) オーストラリアは、移民が人口のほとんどを占めていて、先住民族の割合は大きく減っている。この先住民の呼び名を書け。
- (3) 地図中のA・Bは牛と羊の牧畜の分布を表している。このうち、羊を表しているのはどちらか、記号で答えよ。



③ 【各4 — 16点】

(1)	▲	
	■	
(2)		
(3)		

④ オセアニアのようすについてのべたつぎの各文の下線部が正しければ○を書け。誤っていれば正しくなせ。

- (1) 大陸のすべてが赤道より南にある大陸は、オーストラリア大陸と南アメリカ大陸である。
- (2) オーストラリアは、1～2月ごろに真夏をむかえる。
- (3) オーストラリアと日本の時差は、大きいところで1時間ほどである。
- (4) 日本はオーストラリアに、衣類、一般機械、電気機械、化学製品などを輸出している。
- (5) オーストラリアと日本との貿易は、日本の輸出超過になっている。
- (6) ニューゼalandは環太平洋造山帯に属していて、火山や地震が多い。

④ 【各4 — 24点】

(1)	
(2)	
(3)	
(4)	
(5)	
(6)	